



Sèrie 1

L'alumnat ha de respondre quatre preguntes de les set proposades.

Cada pregunta (qüestió) consta de dos apartats (a i b) que valen sempre 1,25 punts.

Com a norma general, tingueu en compte que un error no s'ha de penalitzar dues vegades. Si un càlcul necessita un resultat anterior i aquest resultat és erroni, cal valorar la resposta independentment del valor numèric i tenir en compte el procediment de resolució (sempre que els valors emprats o els resultats obtinguts no siguin absurds).

Un error en la formulació penalitza 0,5 punts en aquell apartat, com s'explicita en la pauta. En cap cas un apartat pot tenir una puntuació "negativa".



Problema 1a

Configuracions electròniques

$Z = 11$ $1s^2, 2s^2, 2p^6, 3s^1$ [0,10 p.]

$Z = 35$ $1s^2, 2s^2, 2p^6, 3s^2, 3p^6, 4s^2, 3d^{10}, 4p^5$ [0,15 p.]

Grup, període i bloc

L'element $Z = 11$ és del **període 3** ($n = 3$), del **grup 1** ($3s^1$), metall alcalí, i del **bloc s** (s^1).

[0,20 p.]

L'element $Z = 35$ és del **període 4** ($n = 4$), del **grup 17** ($4s^2, 3d^{10}, 4p^5$), halogen, i del **bloc p** (p^5).

[0,20 p.]

Raoneu quin nombre atòmic correspon a A i B

L'element amb $Z = 11$, al ser del grup 1, **si perd un sol electró** es convertirà en un catió i aconseguirà la configuració de gas noble ($2s^2, 2p^6$). Serà el **catió del compost iònic AB**.

L'element amb $Z = 35$, al ser del grup 17, **pot guanyar un electró** i aconseguir la configuració de gas noble ($4s^2, 3d^{10}, 4p^6$). Serà l'**anió del compost iònic AB**.

[0,20 p.]

L'element amb $Z = 35$, al ser del **grup 17**, **és un no-metall** que pot formar **enllaços covalents** per compartició d'electrons. Serà el compost A_2 .

[0,20 p.]

Per tant,

⇒ **A** serà **Z = 35**, no-metall (halogen) [0,10 p.]

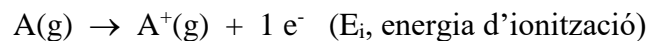
⇒ **B** serà **Z = 11**, metall (metall alcalí) [0,10 p.]



Problema 1b

Definició d'energia d'ionització

L'energia d'ionització és la quantitat d'**energia** que cal subministrar a un **àtom en estat gasós** per **arrencar un electró**:



En condicions normals, un àtom mai desprèn energia de manera espontània. Per tant, és una magnitud amb **signe positiu**.

[0,30 p.]

Càlcul de l'energia de la radiació

A partir de l'equació de Planck es relaciona l'energia de la radiació amb la freqüència:

$$E = h \nu \quad [0,10 \text{ p.}]$$

- Considerant la relació entre $\nu = c / \lambda$ i substituint:

$$E = \frac{h \cdot c}{\lambda}$$

$$E = \frac{6,63 \times 10^{-34} \text{ J s} \cdot 3 \times 10^8 \text{ m s}^{-1}}{6 \times 10^{-11} \text{ m}} = 3,315 \times 10^{-15} \text{ J} \quad [0,25 \text{ p.}]$$

es podrà ionitzar l'àtom d'hidrogen amb una radiació de $6 \times 10^{-11} \text{ m}$?

- Canvi d'unitats (kJ/mol a J/àtom):

$$1318 \text{ kJ mol}^{-1} \frac{1000 \text{ J}}{1 \text{ kJ}} \frac{1 \text{ mol}}{6,02 \cdot 10^{23} \text{ àtom}} = 2,189 \cdot 10^{-18} \text{ J àtom}^{-1}$$

[0,35 p.]

- L'energia de la radiació és $3,315 \times 10^{-15} \text{ J}$ per cada fotó $> 2,189 \cdot 10^{-18} \text{ J àtom}^{-1}$

\Rightarrow L'**àtom d'hidrogen** sí que **es podrà ionitzar** amb una **radiació** de $\lambda = 6 \times 10^{-11} \text{ m}$.

[0,25 p.]



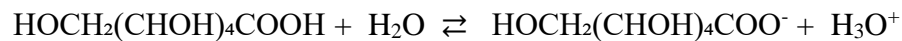
Pregunta 2a

Càlcul de les concentracions a l'equilibri

Concentració molar d'àcid glucònic ($\text{HOCH}_2(\text{CHOH})_4\text{COOH}$)

$$3,8 \text{ g} \frac{1 \text{ mol àcid glucònic}}{196,16 \text{ g}} \frac{1000 \text{ mL}}{100 \text{ mL}} = 0,19372 \text{ M} \quad [0,10 \text{ p.}]$$

Equilibri de l'àcid glucònic



Concentració inici	0,19372	--	--
Concentracions a l'equilibri	0,19372 - x	x	x

$$K_a = \frac{[\text{HOCH}_2(\text{CHOH})_4\text{COO}^-][\text{H}_3\text{O}^+]}{[\text{HOCH}_2(\text{CHOH})_4\text{COOH}]} = 1,48 \times 10^{-4} \quad [0,30 \text{ p.}]$$

Concentracions a l'equilibri

$$\frac{(x)(x)}{(0,19372 - x)} = 1,48 \times 10^{-4}$$

(equació 1)

$$x^2 + 1,48 \cdot 10^{-4} x - 2,867 \cdot 10^{-5} = 0$$

Resolent l'equació quadràtica es troba que $x = \mathbf{0,005281}$. L'altra solució és negativa.

La concentració de totes les espècies a l'equilibri és:

$$[\text{H}_3\text{O}^+] = \mathbf{5,281 \times 10^{-3} \text{ M}}$$

$$[\text{HOCH}_2(\text{CHOH})_4\text{COO}^-] = \mathbf{5,281 \times 10^{-3} \text{ M}}$$

$$[\text{HOCH}_2(\text{CHOH})_4\text{COOH}] = 0,19372 - 5,281 \times 10^{-3} = \mathbf{0,18844 \text{ M}} \quad [0,30 \text{ p.}]$$

- Si l'equació 1 se simplifica, cal resoldre una equació de primer grau que dona com a resultat una $[\text{H}_3\text{O}^+] = 5,354 \times 10^{-3}$ i un $\text{pH} = 2,27$.
- No és penalitzarà si l'alumne fa l'aproximació; es considerarà correcte i es valorarà amb 0,30 p. En aquest cas la $[\text{HOCH}_2(\text{CHOH})_4\text{COOH}]$ és 0,18837 M.

Raoneu si podran créixer els microorganismes

Càlcul del pH

$$\text{pH} = -\log [\text{H}_3\text{O}^+] = -\log (5,281 \times 10^{-3}) \Rightarrow \mathbf{\text{pH} = 2,28} \quad [0,30 \text{ p.}]$$



Justificació

El pH de la mostra és 2,28.

⇒ No creixeran els microorganismes perquè el pH de la mostra que conté àcid glucònic és inferior a 4,5.

⇒ $\text{pH}_{\text{mostra}} = 2,28 < \text{pH}_{\text{conservació}} = 4,5$ [0,25 p.]

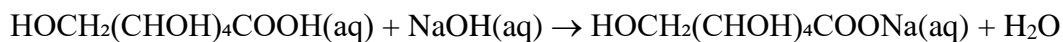
Problema 2b

Formulació. Hidròxid de sodi: NaOH [−0,50 p. si no el formulen bé]

Reacció de valoració

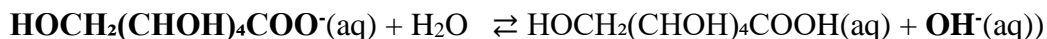


O també:



Justificació del pH en el punt d'equivalència

La sal que es forma en el procés de valoració és el gluconat de sodi ($\text{HOCH}_2(\text{CHOH})_4\text{COONa}$). El catió sodi (Na^+) no reacciona amb l'aigua perquè prové d'una base forta, però l'anió gluconat ($\text{HOCH}_2(\text{CHOH})_4\text{COO}^-$) és la base conjugada d'un àcid dèbil que reaccionarà amb l'aigua i que dona lloc a una hidròlisi bàsica:



⇒ En el punt d'equivalència només tindrem l'anió $\text{HOCH}_2(\text{CHOH})_4\text{COO}^-$ i el catió Na^+ .

⇒ Per tant, el pH en el punt d'equivalència només ve determinat per la presència de l'anió $\text{HOCH}_2(\text{CHOH})_4\text{COO}^-$, que en aigua forma OH^- i serà bàsic ($\text{pH} > 7$).

[0,40 p.]

Material i altres substàncies per dur a terme la valoració: [0,40 p.]

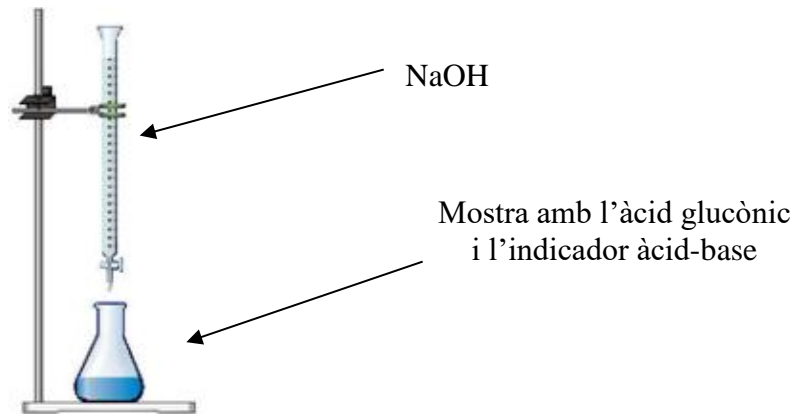
(A part de la mostra que conté àcid glucònic i la solució de NaOH.)

- ✓ Bureta, amb un peu i pinça per subjectar-la.
- ✓ Pipeta aforada i una pera d'aspiració (o succionador).
- ✓ Erlenmeyer (o vas de precipitats).
- ✓ Indicador àcid-base que viri a la zona de pH bàsic (fenolftaleïna, per exemple)



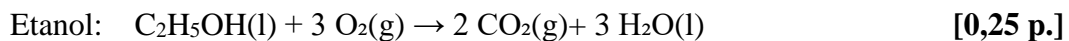
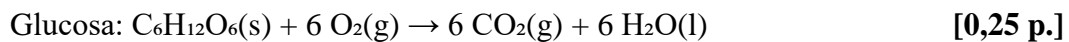
Dibuix del muntatge

[0,20 p.]



Problema 3a

Reaccions de combustió

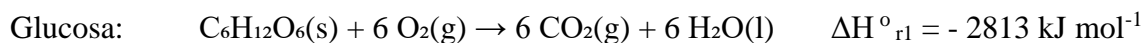


Càlcul de l'entalpia de la reacció de fermentació

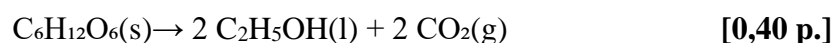
Reaccions

Segons la reacció de fermentació $C_6H_{12}O_6(s) \rightarrow 2 C_2H_5OH(l) + 2 CO_2(g)$, reescrivim les reaccions de combustió de la glucosa i l'etanol per calcular l'entalpia estàndard de la reacció de fermentació de la glucosa aplicant la llei de Hess.

Reacció de combustió 1: directa



Reacció de combustió 2: doblada i girada



Càlcul

Aplicant la llei de Hess:

$$\Delta H^\circ_{\text{fermentació}} = \Delta H^\circ_{r1} - 2 \times \Delta H^\circ_{r2} = -2813 \text{ kJ mol}^{-1} - 2 \times (-1367 \text{ kJ mol}^{-1}) = -79 \text{ kJ mol}^{-1}$$

$$\Rightarrow \Delta H^\circ_{\text{fermentació}} = -79 \text{ kJ mol}^{-1}$$

[0,20 p.]



Justificació del tipus de reacció

⇒ La reacció és **exotèrmica** perquè $\Delta H^0_{\text{fermentació}} < 0$, i això significa que es desprèn calor durant la fermentació.

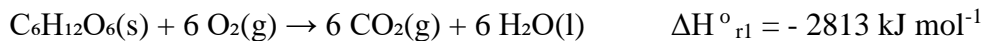
[0,15 p.]



Problema 3b

Càlcul de l'entropia estàndard de la reacció

Reacció de combustió de la glucosa:



$$\Delta S^{\circ}_{\text{reacció}} = (\sum n_{\text{p}} S^{\circ}_{\text{productes}}) - (\sum n_{\text{r}} S^{\circ}_{\text{reactius}})$$

$$(\sum n_{\text{p}} S^{\circ}_{\text{productes}}) = [(6 \times S^{\circ} \text{CO}_2) + (6 \times S^{\circ} \text{H}_2\text{O})]$$

$$(\sum n_{\text{r}} S^{\circ}_{\text{reactius}}) = [(1 \times S^{\circ} \text{C}_6\text{H}_{12}\text{O}_6) + (6 \times S^{\circ} \text{O}_2)]$$

$$\Delta S^{\circ}_{\text{reacció}} = [6 \times 213,8 + 6 \times 70,0] - [1 \times 2121,0 + 6 \times 205,2] = -1649,4 \text{ J K}^{-1} \text{ mol}^{-1}$$

$$\Rightarrow \Delta S^{\circ}_{\text{reacció}} = -1649,4 \text{ J mol}^{-1} \text{ K}^{-1} \quad [0,50 \text{ p.}]$$

Càlcul de l'espontaneïtat de la reacció

Una reacció serà espontània quan $\Delta G^{\circ} < 0$, i [0,10 p.]

$$\Rightarrow \Delta G^{\circ} = \Delta H^{\circ} - T \Delta S^{\circ} \quad [0,10 \text{ p.}]$$

Primer transformem les unitats d'entropia (J a kJ):

$$-1649,4 \text{ J mol}^{-1} \text{ K}^{-1} \times (1 \text{ kJ} / 1000 \text{ J}) = -1,6494 \text{ kJ mol}^{-1} \text{ K}^{-1}$$

Càlcul de l'espontaneïtat a 36,5 °C

$$T = 36,5 + 273 \text{ K} = 309,5 \text{ K}$$

$$\Delta H^{\circ}_{\text{r1}} = -2813 \text{ kJ mol}^{-1} \text{ (enunciat)}$$

$$\Delta G^{\circ} = -2813 \text{ kJ mol}^{-1} - (309,5 \text{ K} \times (-1,6494 \text{ kJ mol}^{-1} \text{ K}^{-1})) = -2302,5 \text{ kJ mol}^{-1}$$

$$\Rightarrow \Delta G^{\circ}_{\text{reacció}} = -2302,5 \text{ kJ mol}^{-1} \quad [0,35 \text{ p.}]$$

- També es considerarà correcte si es calcula ΔG° en J mol^{-1} , canviant les unitats de ΔH° de kJ a J, i s'obté un valor de $\Delta G^{\circ}_{\text{reacció}} = -2302,5 \times 10^3 \text{ J mol}^{-1}$.

\Rightarrow La reacció serà espontània en condicions fisiològiques a 36,5 °C perquè $\Delta G^{\circ} < 0$ [0,20 p.]



Problema 4a

Càlcul de la constant d'equilibri K_c

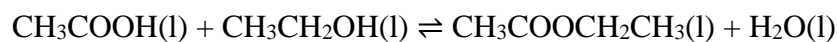
Càlcul dels mols inicials d'etanol

[0,10 p.]

Massa molar d'etanol: $\text{CH}_3\text{CH}_2\text{OH} = 2 \times 12 + 6 \times 1 + 16 = 46 \text{ g mol}^{-1}$

$$115 \text{ mL} \frac{0,80 \text{ g}}{1 \text{ mL}} \frac{1 \text{ mol etanol}}{46 \text{ g}} = 2 \text{ mol d'etanol}$$

Càlcul dels mols a l'equilibri



Mols inici	1 mol	2 mol	--	--	
Mols equilibri	$1 - x$	$2 - x$	x	x	[0,15 p.]

- Càlcul de la x :

Si a l'equilibri hi ha 0,15 mols d'àcid acètic, es pot calcular la x :

En l'equilibri $\Rightarrow 1 - x = 0,15$ mols d'àcid acètic

$$\Rightarrow x = 0,85 \text{ mols}$$

[0,15 p.]

- Càlcul de concentracions:

Considerant el valor de la x i que el volum es manté constant i igual a V :

$$\text{Mols } \text{CH}_3\text{COOH} = 0,15 \quad \Rightarrow [\text{CH}_3\text{COOH}] = 0,15 / V$$

$$\text{Mols } \text{CH}_3\text{CH}_2\text{OH} = 2 - 0,85 = 1,15 \quad \Rightarrow [\text{CH}_3\text{CH}_2\text{OH}] = 1,15 / V$$

$$\text{Mols } \text{CH}_3\text{COOCH}_2\text{CH}_3 = 0,85 \quad \Rightarrow [\text{CH}_3\text{COOCH}_2\text{CH}_3] = 0,85 / V$$

$$\text{Mols } \text{H}_2\text{O} = 0,85 \quad \Rightarrow [\text{H}_2\text{O}] = 0,85 / V$$

Càlcul de K_c

Com que el volum es manté constant, en aquest cas es pot simplificar el càlcul de K_c :

$$K_c = \frac{[\text{CH}_3\text{COOCH}_2\text{CH}_3][\text{H}_2\text{O}]}{[\text{CH}_3\text{COOH}][\text{CH}_3\text{CH}_2\text{OH}]} = \frac{0,85 \cdot 0,85}{0,15 \cdot 1,15} = 4,188$$

$$\Rightarrow K_c = 4,188$$

[0,40 p.]

Pictograma 1 i 3



Inflamable. Els productes amb aquest pictograma acostumen a ser en **format gas, aerosol, líquid o vapor** i presenten un alt risc d'inflamació.

[0,15 p.]

Pictograma 2

Corrosiu. Pot ser corrosiu per a alguns metalls; pot provocar cremades a la pell i lesions oculars greus.

[0,15 p.]



Pictograma 4



Irritació cutània. Aquest producte, per contacte breu, perllongat o repetitiu amb la pell o les mucoses, pot provocar una reacció inflamatòria. [0,15 p.]

Pregunta 4b

Raoneu com afecta el rendiment de la reacció l'excés d'etanol i l'eliminació d'aigua

Segons el principi de Le Châtelier, la producció d'acetat d'etil augmentarà quan la pertorbació de l'equilibri provoqui que l'equilibri es desplaci cap a la dreta (en el sentit dels productes). Per tant, si es formen més productes, incrementarà el rendiment de la reacció.

Gran excés d'etanol

Si hi ha un gran excés d'etanol s'està **incrementant la concentració d'un dels reactius**; per compensar-ho, segons el principi de Le Châtelier, **l'equilibri es desplaçarà cap a la formació de productes** i, per tant, el **rendiment** de la reacció **augmenta**.

⇒ **Afavoreix la reacció directa** (cap a la dreta) i es produirà més acetat d'etil i més aigua.

⇒ **El rendiment de la reacció augmenta.** [0,45 p.]

Eliminació de l'aigua

L'aigua és un dels productes de la reacció; en **eliminar-la es disminueix la concentració d'un dels productes**. Per compensar-ho, segons el principi de Le Châtelier, **l'equilibri es desplaça cap a la formació de productes** i, per tant, el **rendiment** de la reacció **augmenta**.

⇒ **Afavoreix la reacció directa** (cap a la dreta) i es produirà més acetat d'etil i més aigua.

⇒ **El rendiment de la reacció augmenta.** [0,45 p.]

Rendiment sense catalitzador àcid

La presència o l'absència de catalitzador no afecta el rendiment de la reacció.

Un catalitzador modifica la cinètica de la reacció (velocitat), però no n'altera l'equilibri. **Els catalitzadors actuen augmentant la velocitat de la reacció**; per tant, la reacció serà més lenta sense catalitzador.

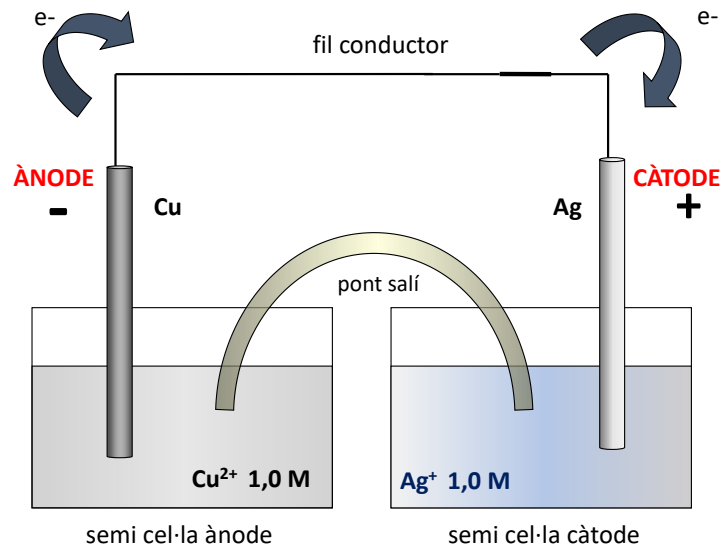
⇒ **El rendiment de la reacció serà el mateix**, però la reacció serà més lenta

[0,35 p.]



Problema 5a

Dibuix de la pila i del material necessari



A més de dues làmines de Cu i Ag i de les dues solucions dels ions corresponents (Cu^{2+} i Ag^+), el material necessari per muntar la pila és:

- ✓ 2 vasos de precipitats que facin la funció de semicel·les electroquímiques
- ✓ 1 fil conductor que connectarà els dos elèctrodes per un circuit extern
- ✓ 1 pont salí que tancarà el circuit

[0,75 p.]

Escriure les semireaccions i la reacció global

Ànode (oxidació) $\text{Cu(s)} \rightarrow \text{Cu}^{2+}(\text{aq}) + 2 \text{e}^-$ [0,15 p.]

Càtode (reducció) $2 \times (\text{Ag}^+(\text{aq}) + 1 \text{e}^- \rightarrow \text{Ag(s)})$ [0,20 p.]

Reacció global $\text{Cu(s)} + 2 \text{Ag}^+(\text{aq}) \rightarrow \text{Cu}^{2+}(\text{aq}) + 2 \text{Ag(s)}$ [0,15 p.]



Pregunta 5b

Càlcul FEM estàndard de la pila

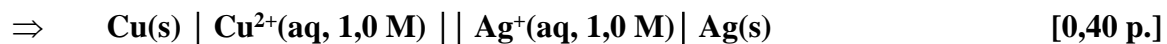
$$E(\text{pila}) = E^0 \text{ càtode} - E^0 \text{ ànode} = 0,80 \text{ V} - (0,34 \text{ V}) = +0,46 \text{ V}$$

$$\Rightarrow \quad \mathbf{E(\text{pila}) = 0,46 \text{ V}} \quad \mathbf{[0,40 \text{ p.}]}$$

- *Es considerarà correcte si es calcula la FEM com $E(\text{pila}) = E^0 \text{ reducció} + E^0 \text{ oxidació} = 0,80 \text{ V} + (-0,34 \text{ V}) = +0,46 \text{ V}$*

Notació esquemàtica de la pila

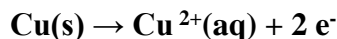
L'ànode s'escriu a l'esquerra i el càtode a la dreta:



Què succeeix amb la làmina de coure?

La làmina de coure (Cu) en aquesta pila té la **funció d'ànode**.

En l'ànode sempre es produeix la **semireacció d'oxidació**. En aquesta pila la reacció d'oxidació que té lloc és:



Com el **coure de l'elèctrode s'oxida** i es transforma en **catió coure(II)**, la quantitat de **coure metàl·lic** de l'elèctrode **disminueix** a la vegada que la **concentració d'ió coure(II)** en solució **augmenta**.

\Rightarrow **La massa de l'elèctrode de coure (Cu) disminueix quan avança la reacció.**

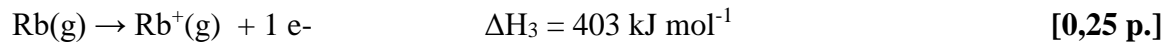
[0,45 p.]



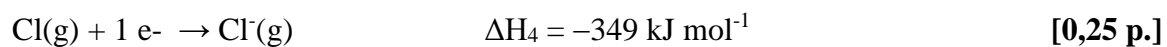
Problema 6a

Reaccions i energies del cicle de Born-Haber

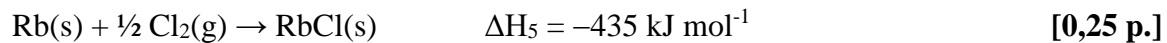
Primera energia d'ionització del rubidi



Afinitat electrònica del clor



Entalpia de formació del clorur de rubidi



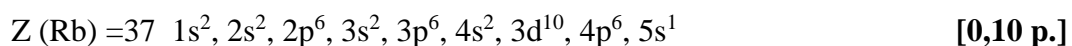
Justifiqueu si la primera energia d'ionització del Na és més gran o petita que la del Rb.

Configuracions electròniques

- L'àtom de sodi (Na) té 11 electrons:



- L'àtom de rubidi (Rb) té 37 electrons:



Justificació

L'energia d'ionització del sodi serà superior a l'energia d'ionització del rubidi perquè arrencar l'electró del Na(g) és més difícil que arrencar un electró del Rb(g).

L'electró del Na(g) està situat en un **orbital més intern** (orbital 3s) mentre que, en el cas del **Rb(g)**, l'electró està situat en un **orbital més extern** (orbital 5s).

Com més intern és l'electró, més costa d'arrencar, perquè com **està més a prop del nucli** se sent **més atret pels protons del nucli** (l'apantallament és menor).

[0,30 p.]



Problema 6b

Energia reticular del RbCl

L'entalpia de formació del clorur de rubidi (ΔH_5) és igual a:

$$\Delta H_5 = \Delta H_1 + \frac{1}{2} \Delta H_2 + \Delta H_3 + \Delta H_4 + \Delta H_6 \quad [0,35 \text{ p.}]$$

$$-435 \text{ kJ mol}^{-1} = 82 \text{ kJ mol}^{-1} + \frac{1}{2} \times 240 \text{ kJ mol}^{-1} + 403 \text{ kJ mol}^{-1} - 349 \text{ kJ mol}^{-1} + \Delta H_6$$

d'on es pot aïllar el valor de l'energia reticular (ΔH_6):

$$\Delta H_6 = -\Delta H_1 - \frac{1}{2} \Delta H_2 - \Delta H_3 - \Delta H_4 + \Delta H_5$$

$$\Delta H_6 = -82 \text{ kJ mol}^{-1} - \frac{1}{2} \times 240 \text{ kJ mol}^{-1} - 403 \text{ kJ mol}^{-1} - (-349 \text{ kJ mol}^{-1}) + (-435 \text{ kJ mol}^{-1})$$

$$\Rightarrow \Delta H_6 = -691 \text{ kJ mol}^{-1} \quad [0,40 \text{ p.}]$$

- Si no es considera que l'entalpia de dissociació del Cl_2 (ΔH_2) s'ha de dividir per dos, perquè només es necessita $\frac{1}{2}$ mol de clor, es penalitzarà amb 0,25 p. dels 0,75 p.

Raona si l'energia reticular del NaF és més gran o més petita que la del RbCl.

Configuracions electròniques

- L'àtom de fluor (F) té 11 electrons: $Z(\text{F}) = 9 \quad 1s^2, 2s^2, 2p^5 \quad [0,10 \text{ p.}]$

- L'àtom de clor (Cl) té 17 electrons: $Z(\text{Cl}) = 17 \quad 1s^2, 2s^2, 2p^6, 3s^2, 3p^5 \quad [0,10 \text{ p.}]$

Energia reticular de NaF enfront de l'energia reticular de RbCl.

L'energia reticular d'un compost iònic és directament **proporcional a la força amb què s'atrauen els ions** i ve determinada per la llei de Coulomb:

$$F = K \frac{q_1 \times q_2}{r^2}$$

En aquests dos compostos iònics, NaF i RbCl, les càrregues dels ions són les mateixes; per tant, **la diferència entre les seves energies reticulars vindrà determinada per la distància a la qual estiguin els ions, és a dir, de la seva mida.**

\Rightarrow **Radi del catió sodi (Na^+) < radi del catió rubidi (Rb^+)**, perquè un àtom de rubidi té cinc capes amb orbitals ocupats i un àtom de sodi en té tres.

\Rightarrow **Radi de l'anió fluor (F^-) < radi de l'anió clorur (Cl^-)**, perquè un àtom de clor té tres capes amb orbitals ocupats i un àtom de fluor en té dues.

Com que els ions, en el cas del NaF, són més petits que en el cas del RbCl, **els ions Na^+ i F^- es troben més a prop** i, per tant, **s'atrauen amb força**. L'energia reticular del fluorur de sodi **serà major en valor absolut** que l'energia reticular del clorur de rubidi; és a dir, es desprèn més energia quan es forma un mol de cristall iònic en estat gasós a partir dels seus ions en estat gasós:

$$\Rightarrow | \text{Energia reticular NaF} | > | \text{Energia reticular RbCl} | \quad [0,30 \text{ p.}]$$

- No és necessari que escriguin la llei de Coulomb.



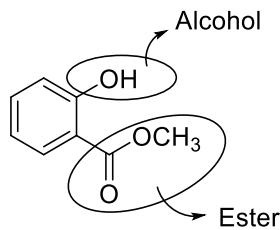
Proves d'accés a la Universitat 2024, convocatòria ordinària. Criteri específic d'avaluació

- *Només és necessari que relacionin el radi dels ions amb la distància entre ells. Com més petits són els ions, més a prop es troben i més gran és l'energia reticular en valor absolut. És a dir, més energia es desprèn quan es forma un mol de cristall iònic a partir dels seus ions en estat gasós.*



Pregunta 7a

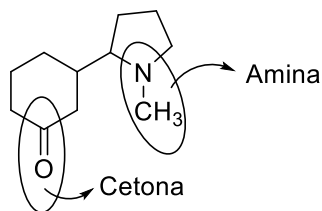
Identificació de grups funcionals



[0,30 p.]

0,15 p. l'alcohol

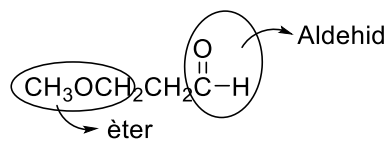
0,15 p. l'èster



[0,30 p.]

0,15 p. cetona

0,15 p. amina



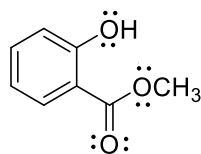
[0,30 p.]

0,15 p. aldehyd

0,15 p. èter

Parells d'electrons no compartits

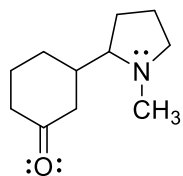
Al ser compostos neutres, els àtoms d'oxigen i nitrogen, per tal de complir l'octet, han de tenir al seu voltant parells d'electrons no compartits.



[0,15 p.]

0,05 p. l'alcohol

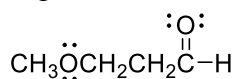
0,10 p. l'èster



[0,10 p.]

0,05 p. amina

0,05 p. cetona



[0,10 p.]

0,05 p. aldehyd

0,05 p. èter



Pregunta 7b

Senyals característics dels diferents grups funcionals de les molècules

Compost A: C-H, O-H, C=C, C=O i C-O [0,10 p.]

Compost B: C-H, C=O i C-N [0,10 p.]

Compost C: C-H, C=O i C-O [0,10 p.]

Els tres compostos tenen en comú una funció carbonil (C=O), enllaços C-H. El compost A i C també tenen en comú enllaços C-O.

El compost B és l'únic que presenta enllaços C-N, però s'observen pràcticament a la mateixa regió de l'espectre que els enllaços C-O.

El compost A és l'únic que presentarà senyals dels enllaços O-H i C=C.

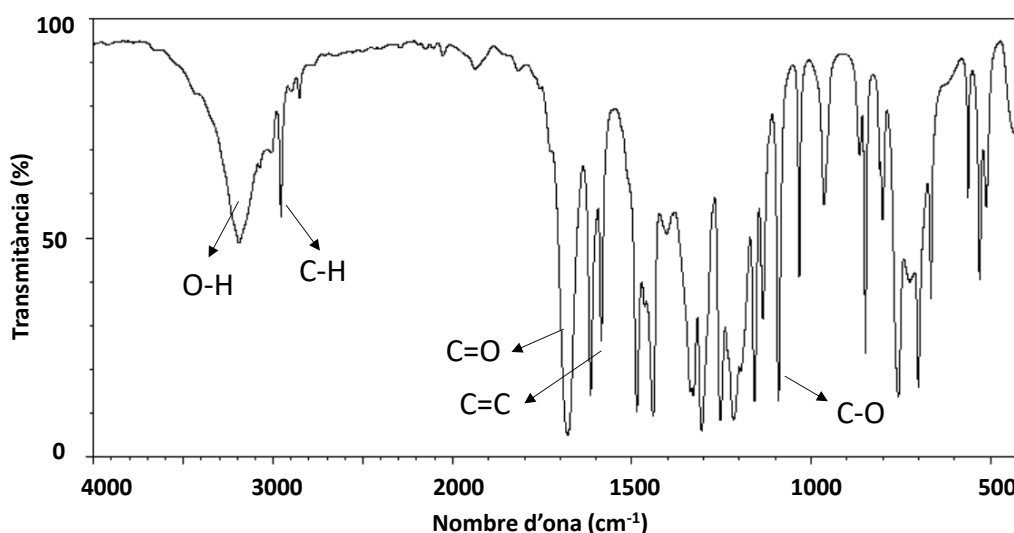
[0,25 p.]

Senyals a l'espectre d'IR

En l'espectre d'IR de la molècula problema s'observen senyals corresponents a les bandes: O-H (al voltant de 3.200 cm^{-1}), C-H (al voltant de 2.900 cm^{-1}), C=O (al voltant de 1.700 cm^{-1}), C=C (al voltant de 1.600 cm^{-1}) i C-O (al voltant de 1.100 cm^{-1}).

[0,50 p.]

- No és necessari que s'indiquin els senyals de les bandes en l'espectre IR, només han d'indicar el tipus d'enllaç i el nombre d'ona aproximats.



Identificació de la molècula

Es tracta del compost A perquè en l'espectre s'observa clarament el senyal de la vibració de l'enllaç O-H al voltant de 3.200 cm^{-1} , així com el senyal de la vibració de C=C al voltant de 1.600 cm^{-1} que només pot donar el compost A perquè conté en la seva estructura una funció alcohol i un anell aromàtic.

[0,20 p.]